

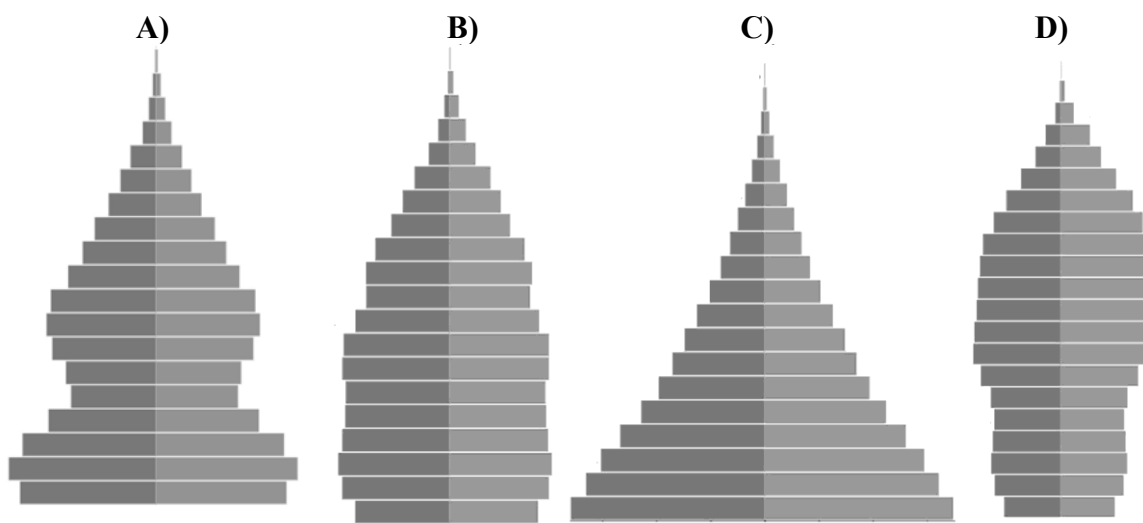
2024-től érvényes érettségi követelmények szerinti feladatok

7.1 Nemzetközi együttműködés, globális világ

2025-OKTÓBER-MAGYAR-KÖZÉP-7.1

A feladat a jelenkori világ demográfiai változásaihoz kapcsolódik.

Oldja meg a feladatokat a források és ismeretei segítségével! (Elemenként 1 pont.)



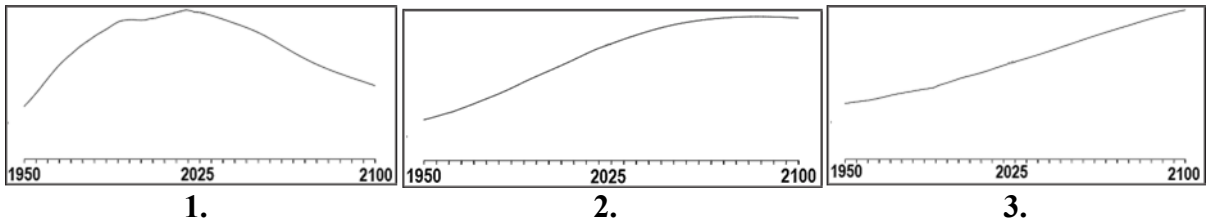
Korfák*, 2024

*A korfa a népesség nemenkénti koreloszlását ábrázoló szalagdiagram. A grafikon bal oldalán a férfiak, jobb oldalán a nők százalékos eloszlásának megfelelő hosszúságú vízszintes sávok mutatják az adott életkorú népesség százalékos eloszlását, öt éves korcsoportonként. A korfán alul helyezkednek el a legfiatalabb, majd felfelé haladva az egyre idősebb korosztályok.

a) Döntse el, melyik korfa jeleníti meg a táblázatban felsorolt földrészek lakosságának jelenlegi összetételét! Írja a korfák betűjeleit a táblázat megfelelő mezőibe! Egy mezőbe egy betűjelet írjon! Egy betűjel kimarad.

Földrész	Korfa betűjele
Európa	
Afrika	
Ázsia	

b) Állapítsa meg, melyik grafikon ábrázolja a világ népességének tényleges és valószínűsíthető alakulását 1950–2100 között! Karikázza be az egyetlen megfelelő grafikon sorszámát!

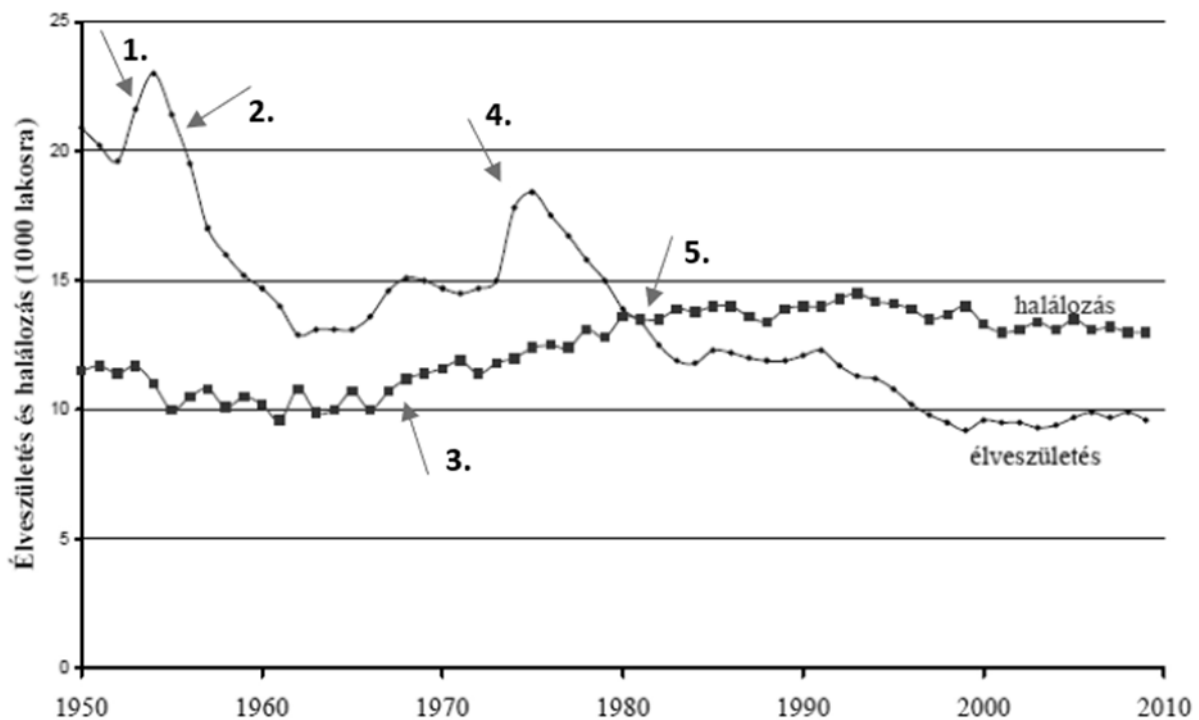


4 pont

2024-MÁJUS-MAGYAR-KÖZÉP-7.1

A feladat Magyarország 1945 utáni demográfiai viszonyaival kapcsolatos.

Adja meg a grafikonon szereplő nyilak közül annak a sorszámát, amely az állítást alátámasztó változásra mutat! Írja a nyilak sorszámát a táblázat megfelelő mezőibe! Egy mezőbe egy sorszámot írjon! Egy sorszám kimarad. (Elemenként 1 pont.)



Éveszületések és halálozások Magyarországon (1000 lakosra)

Állítás	A nyíl sorszáma
a) Az egyre inkább terjedő dohányzás, alkoholizmus és az öngyilkosságok számának növekedése elkezdett hatást gyakorolni a népesedési adatokra.	
b) A szigorú abortusztilalom és a gyermektelenek megadóztatása éreztette hatását.	
c) Csökkenni kezdett a népesség.	
d) Egy nagy létszámú nemzedék tagjai váltak ekkor szülőkké.	

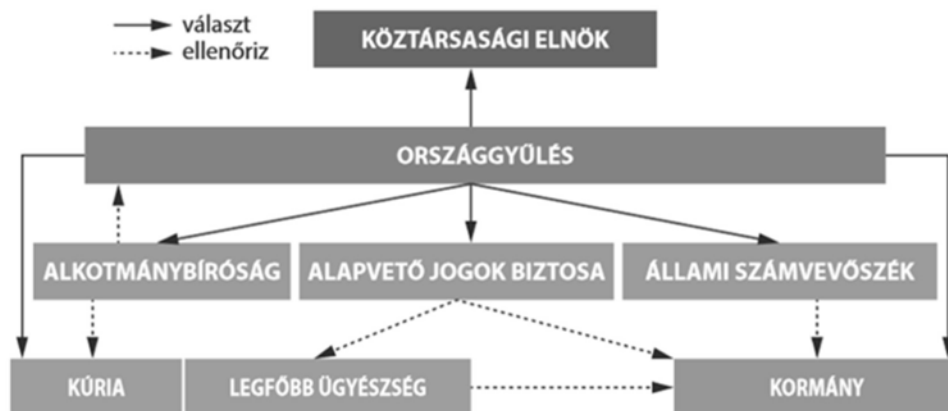
4 pont

7.2. Politikai intézmények

2024-OKTÓBER-MAGYAR-KÖZÉP-7.2

A feladat a mai magyar állam intézményrendszerével kapcsolatos.

Állapítsa meg a források és ismeretei segítségével, hogy a felsoroltak közül melyik tisztségviselő, testület vagy szervezet adta ki – feladatkörét ellátva – az idézett dokumentumokat! Rendelje a dokumentumok betűjeléhez a megfelelő tisztségviselő, testület vagy szervezet sorszámát! Írja a sorszámot a táblázat megfelelő mezőjébe! *Egy mezőbe egy sorszámot írjon! Két sorszám kimarad.* (Elemenként 1 pont.)



Magyarország államszervezete

„A helyi önkormányzat – a helyi képviselő-testület vagy a helyi népszavazás döntésével – önként vállalhatja minden olyan helyi közügy önálló megoldását, amelyet jogszabály nem utal más szerv kizárólagos hatáskörébe. Az önként vállalt helyi közügyekben az önkormányzat mindent megtehet, ami jogszabállyal nem ellentétes.” (2011. évi CLXXXIX. törvény)

Dokumentumok:

A) „[...] megállapítja, hogy az Országgyűlés 2020. december 15-i ülésnapján elfogadott, az egyes energetikai és hulladékgazdálkodási tárgyú törvények módosításáról szóló törvény [...] alaptörvény-ellenes.” (*Határozat*)

B) „[...] az Alaptörvény [...] alapján Haszonicsné dr. Ádám Máriát, Dr. Lomnici Zoltánt, Prof. Dr. Patyi Andrást és Dr. Varga Rékát az Alkotmánybíróság tagjává 2023. szeptember 2-i hatállyal megválasztja.” (*Határozat*)

C) „[...] a közoktatásról szóló – többször módosított – 1993. évi LXXIX. törvény [...] [egyik pontjában] kapott felhatalmazás alapján a következőket rendeli el: [...] Az érettségi vizsga egyes vizsgatárgyaiból középszinten vagy emelt szinten tehető érettségi vizsga.” (*Rendelet*)

D) „[...] a jogellenes magatartások megelőzése, illetve ezen magatartások kiszűrése, a közbiztonság növelése, a közterületi rend biztosítása céljából a város közigazgatási területén közterületi térfigyelő rendszert működtet.” (*Rendelet*)

Tisztségviselők / testületek / szervezetek:

- | | |
|-----------------------|------------------------|
| 1. kormány | 4. köztársasági elnök |
| 2. Alkotmánybíróság | 5. Magyar Nemzeti Bank |
| 3. helyi önkormányzat | 6. Országgyűlés |

A dokumentum betűjele	Tisztségviselő / testület / szervezet sorszáma
A)	
B)	
C)	
D)	

4 pont	
--------	--

7.3. Nemzet

2025-MÁJUS-MAGYAR-KÖZÉP-7.3

A feladat a mai Magyarországon élő nemzetiségekkel kapcsolatos. Oldja meg a feladatokat a források és ismeretei segítségével!



A nemzetiségek jogainak fő összetevői a mai Magyarországon

Adja meg, hogy a nemzetiségek jogainak az ábrán számozással jelölt összetevői közül melyikre vonatkozik az idézet! Írja az idézet után a megfelelő összetevő sorszámát! Egy helyre egy sorszámot írjon! Nyolc sorszám kimarad. (Elemenként 1 pont.)

a) „Demokratikus választások útján e törvény alapján létrehozott szervezet, amely a nemzetiségi közösséget megillető jogosultságok érvényesítésére, a [...] nemzetiségi közügyek települési, területi vagy országos szinten történő önálló intézésére jön létre.” (2011. évi CLXXIX. törvény)

Sorszám:

b) „Magyarország tilalmaz minden olyan politikát, magatartást, amely [...] a nemzetiségnek [...] a többségi nemzetből történő kirekesztését, elkülönítését célozza, vagy ezt eredményezi, [...] nemzetiséget vagy nemzetiséghez tartozó személyt hova- tartozása miatt üldözi, megfélemlíti, életkörülményeit nehezíti, jogai gyakorlásában akadályozza.” (2011. évi CLXXIX. törvény)

Sorszám:

c) „Külön szavazólap szolgál az egyéni választókerületi, az országos pártlistás és – nemzetiségenként – a nemzetiségi listás szavazásra.” (2013. évi XXXVI. törvény)

Sorszám:

d) Nevezze meg a két legnagyobb létszámú nemzetiséget a mai Magyarországon!
(Elemenként 0,5 pont.)

.....

.....

4 pont	
--------	--