

2024-től érvényes érettségi követelmények szerinti feladatok

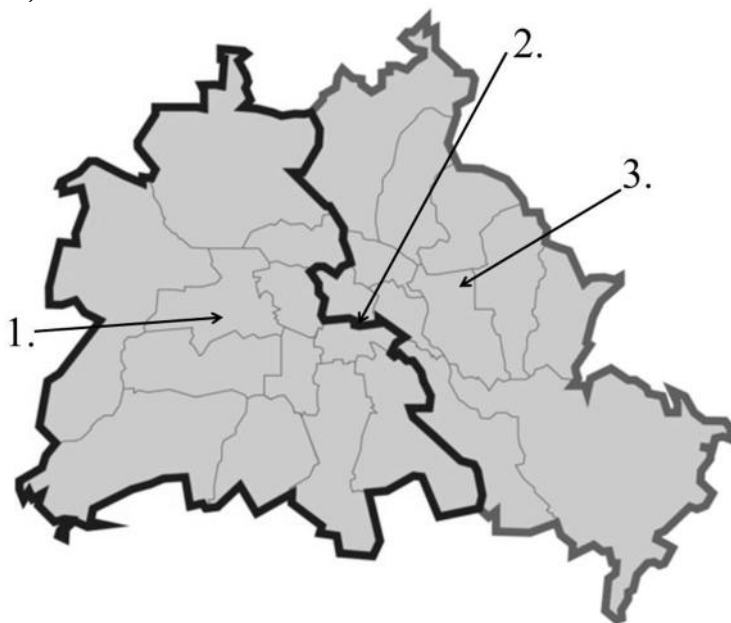
6.1 A hidegháború kora

2025-OKTÓBER-MAGYAR-EMELT-6.1

A feladat a hidegháború korszakával kapcsolatos.

Oldja meg a német kérdésre vonatkozó feladatokat a források és ismeretei segítségével!

A)



Berlin a hidegháború korában

B)



Fénykép, 1948

C)



Fénykép, 1980-as évek

a) A térképvázlaton sorszámmal jelölt helyszínek közül melyik helyzetére utal a B) betűjelű fényképen ábrázolt jelenet? (0,5 pont)

A térképvázlaton jelölt rész sorszáma:

b) A térképvázlaton sorszámmal jelölt helyszínek közül hol állt a C) betűjelű fénykép előterében látható építmény? (0,5 pont)

A térképvázlaton jelölt rész sorszáma:

c) Melyik korabeli történelmi eseményt jelenítik meg a gyerekek a B) betűjelű fényképen? (0,5 pont)

.....

d) Melyik korabeli állam területéről készítették a C) betűjelű fényképet? (0,5 pont)

.....

e) Magyarázza meg, mi volt a szerepe a C) betűjelű fénykép előterében látható építménynek! (1 pont)

.....

f) A forrásokban ábrázolt helyzet Berlin sajátos földrajzi elhelyezkedéséből adódott. Magyarázza meg, miért! (1 pont)

.....

4 pont	
--------	--

2025-MÁJUS-MAGYAR-EMELT-6.1

A feladat a hidegháborúhoz kapcsolódik.

Döntse el, hogy a térkép-vázlatokon ábrázolt hidegháborús konfliktusok közül melyikre igazak az állítások! Írjon X jelet a táblázat megfelelő mezőibe! Egy sorba csak egy X jelet írjon! (Elemenként 0,5 pont.)

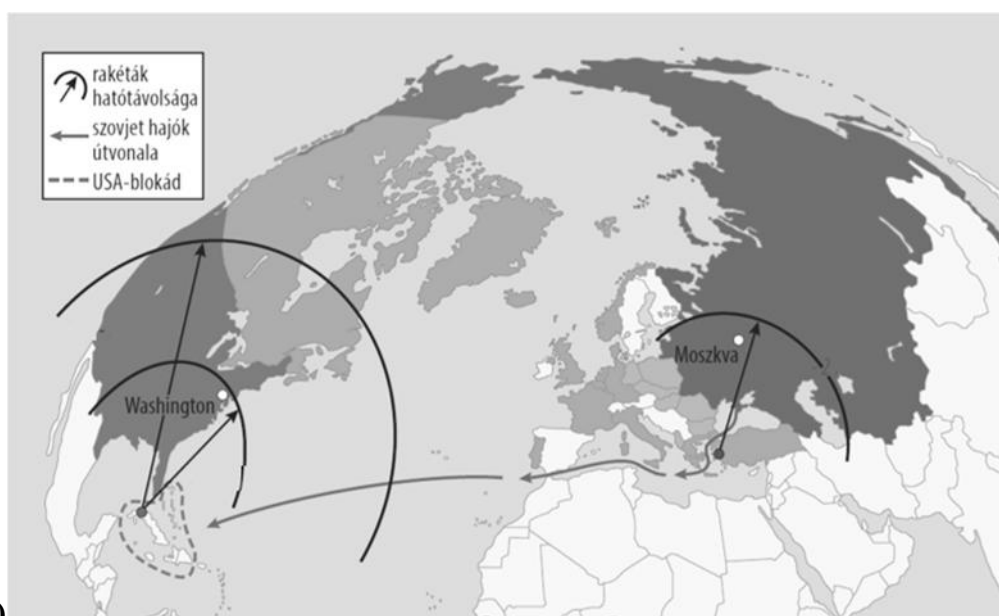
A)



B)



C)



Állítások	A)	B)	C)	mind- három	egyik sem
a) Közvetlenül kerültek szembe egymással a két szuperhatalom katonai erői.					
b) Csak az egyik szuperhatalom hadserege vett benne részt közvetlenül (nemzetközi parancsnokság alatt).					
c) A két korábbi legnagyobb gyarmatbirodalommal rendelkező hatalom is beavatkozott a konfliktusba.					
d) Végül nem torkollott fegyveres összecsapásba.					
e) A szuperhatalmak helyi szövetségesüket támogatták a konfliktusban.					
f) A konfliktus kimenetele okozta a hidegháború végét.					
g) Évtizedeken át húzódó helyi háborúk sorozatának egyik állomása is egyben.					
h) Kimenetele nem változtatta meg alapvetően a szuperhatalmak közötti erőviszonyokat.					

4 pont

2024-OKTÓBER-MAGYAR-EMELT-6.1

A feladat a hidegháborúhoz kapcsolódik.

Állapítsa meg, melyik állítás melyik karikatúrára igaz! Írja a karikatúrák betűjelét a táblázat megfelelő mezőjébe! Egy mezőbe egy betűjelet írjon! (Elemenként 0,5 pont.)




A) (Balra Kennedy, jobbra Hruscsov ül, kezükben a „Hogyan metsszünk fákat?” című könyv. A bal oldali fán a felirat: amerikai bázisok, Törökország, Nyugat-Németország, Japán. A jobb oldalin: Kuba.)




C) (Az asztalnál szemben Hruscsov, háttal Kennedy, a háttérben állva más országok vezetői.)

B) (A gólyák csőrében lévő zsákokon a felirat: szén, élelemiszer. A kéményből kinéző alak Sztálin.)



D) (Az ajándécsomagok felirata: acélgyárak, gát, szuper gát, ígérj nagyobbat. A két A két puttanyon az USA és a Szovjetunió zászlaja.)



D) (Balra Eisenhower, jobbra Hruscsov. A bal oldali tárgyak felirata: amerikai termék. A jobb oldaliaké: szovjet termék.)

Állítások	Kép(ek) betűjele(i)
a) Ez a két karikatúra ugyanahhoz a konkrét hidegháborús konfliktushoz kapcsolódik.	
b) Az ezen a karikatúrán ábrázolt konfliktus a szárazföldi közlekedési útvonalak szovjet elvágása miatt alakult ki.	
c) A karikatúra szerint a két szuperhatalom közül az Egyesült Államokat zavarta jobban a másik terjeszkedése.	
d) Ez a karikatúra egyértelműen hamis képet fest az egyik vetélkedő hatalom lakosságának életszínvonaláról.	
e) Ez a karikatúra a két vetélkedő fél világháborúval fenyegető, kölcsönös felelőtlenségét hangsúlyozza.	
f) Ez a két karikatúra a szuperhatalmak közötti gazdasági versengést hangsúlyozza.	

4 pont	
--------	--

6.2. A kétpólusú világ felbomlása

2024-MÁJUS-MAGYAR-EMELT-6.2

A feladat a kétpólusú világrend megszűnéséhez kapcsolódik.

Oldja meg a feladatokat a forrás és ismeretei segítségével! (Elemenként 1 pont.)



Német karikatúra a keleti tömb felbomlásáról (A képen látható alak Gorbacsov.)

a) Fogalmazza meg egy mondatban, hogy a keleti tömb mely jellegzetességét emeli ki a karikatúra!

.....

b) Nevezze meg a karikatúra azon elemét, amely a keleti tömb felbomlására utal!

.....

c) Magyarázza meg, mit sugall a karikatúra a szovjet pártfőtitkár szerepeltetésével!

.....

3 pont	
--------	--